



Prüfung: Informationstechnik MT 7D51
Termin: Mittwoch, 20.5. 2011
10:00 – 11:30
Prüfer: Prof. J. Walter
Hilfsmittel: beliebig / kein Internet / kein WLAN

Name:	_____
Vorname:	_____
Projekt:	_____
Stick:	_____
PC:	_____

bitte keine rote Farbe verwenden

(nicht ausfüllen)!

Aufgabe	mögl. Punkte	erreichte Punkte
1	12	
2	12	
3	14	
4	8	
5	4	
Gesamt		
	Note	

Bearbeiten Sie die Aufgaben nur, falls Sie keine gesundheitlichen Beschwerden haben.

Viel Erfolg

Bemerkung: Löschen Sie zunächst den Stick und erstellen Sie einen Ordner mit ihrem Namen.

Sie können die Vorder- und Rückseite benutzen. Es werden die auf den Prüfungsblättern vorhandenen oder fest mit den Prüfungsblättern verbundenen Ergebnisse gewertet. Schreiben Sie nur den Ansatz und das Ergebnis/Skizze auf die Blätter. Die gesamte Lösung erstellen Sie auf dem Stick/Rechner in den Ordnern: INFO-SS11/ A1_Nachname, A2_Nachname, A3_Nachname, A4_Nachname

Mit Abgabe dieser Arbeit bestätigen Sie das Löschen von HPVEE „Classroom-Lizenz“ und Maple 12 auf ihrem PC.

WICHTIG: IN JEDER LÖSUNG MUSS AM ANFANG: NAME + MATR.-NR. STEHEN!



1. Gauß'sches Prinzip der kleinsten Fehlerquadrate

Die nachfolgende Funktion $h(t)$:

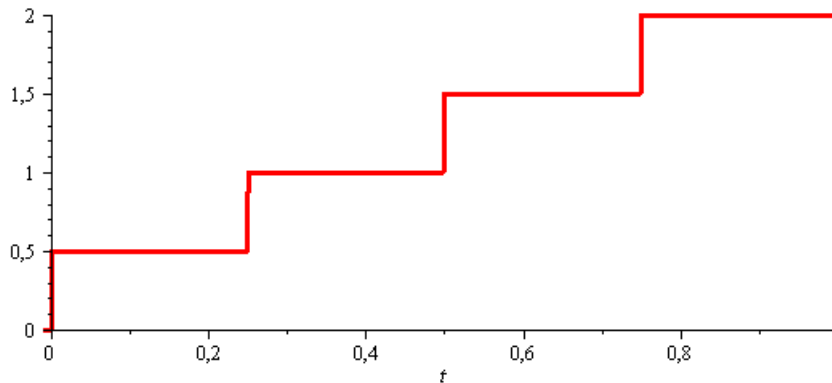


Abbildung 1 Funktion $h(t)$

soll im Bereich $0 \leq t \leq \pi$ optimal durch die Funktion $g := a + b \cdot t$ angenähert werden.

Erzeugen Sie die Funktion $h(t)$ mit Hilfe der Heaviside-Funktion.

- 8P Bestimmen Sie die Parameter der Funktion $g(t)$. Plotten Sie die Funktion $g(t)$ und $h(t)$
- 2P Skizzieren Sie das Ergebnis.
- 2P Um welche-r/n Stelle/n tritt die größte Abweichung auf?

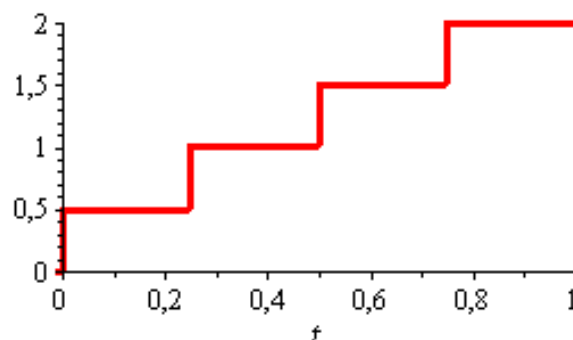
Lösung

> restart;

$$h := \frac{1}{2} \cdot \text{Heaviside}(t) + \frac{1}{2} \cdot \text{Heaviside}\left(t - \frac{1}{4}\right) + \frac{1}{2} \cdot \text{Heaviside}\left(t - \frac{2}{4}\right) + \frac{1}{2} \cdot \text{Heaviside}\left(t - \frac{3}{4}\right);$$

$$h := \frac{1}{2} \text{Heaviside}(t) + \frac{1}{2} \text{Heaviside}\left(t - \frac{1}{4}\right) + \frac{1}{2} \text{Heaviside}\left(t - \frac{1}{2}\right) + \frac{1}{2} \text{Heaviside}\left(t - \frac{3}{4}\right)$$

> plot(h, t=-0.01..1, thickness = 3);





> $g := a + b \cdot t;$

$$g := a + b t$$

> $S := \int_0^1 (h - g)^2 dt;$

$$S := -\frac{25}{16} b + a b + \frac{15}{8} - \frac{5}{2} a + a^2 + \frac{1}{3} b^2$$

> $dSa := \text{diff}(S, a);$

$$dSa := b - \frac{5}{2} + 2 a$$

> $dSb := \text{diff}(S, b);$

$$dSb := -\frac{25}{16} + a + \frac{2}{3} b$$

>

> $\text{solve}(\{dSa, dSb\}, \{a, b\});$

$$\left\{ a = \frac{5}{16}, b = \frac{15}{8} \right\}$$

> $\text{evalf}\left(\frac{5}{16}\right);$

$$0.3125000000$$

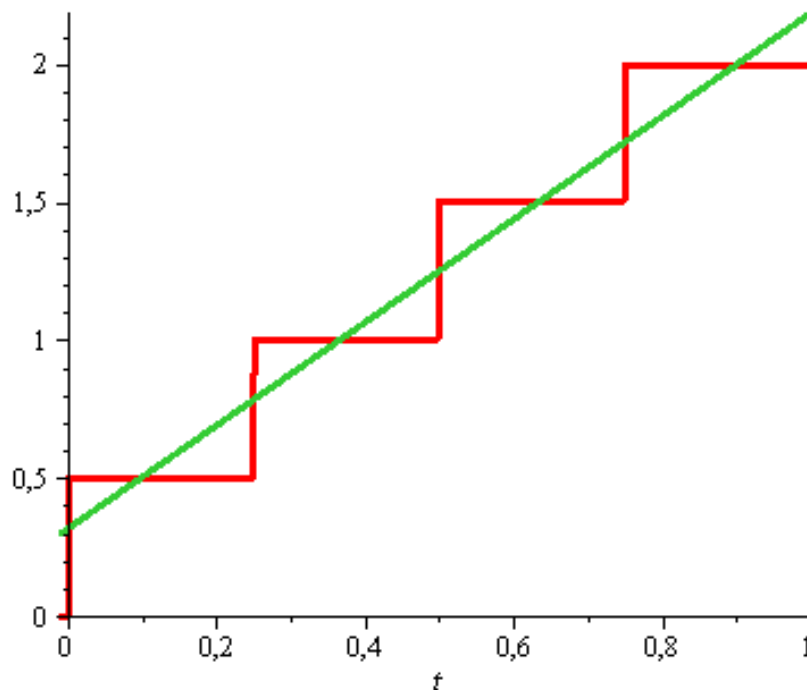
> $\text{evalf}\left(\frac{15}{8}\right);$

$$1.8750000000$$

> $g1 := \frac{5}{16} + \frac{15}{8} \cdot t;$

$$g1 := \frac{5}{16} + \frac{15}{8} t$$

> $\text{plot}([h, g1], t = -0.01 .. 1, \text{thickness} = 3);$

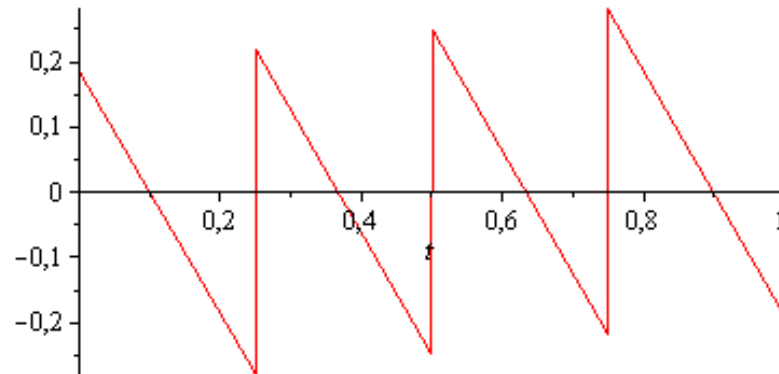


> $DIF := h - g1;$



$$DIF := \frac{1}{2} \text{Heaviside}(t) + \frac{1}{2} \text{Heaviside}\left(t - \frac{1}{4}\right) + \frac{1}{2} \text{Heaviside}\left(t - \frac{1}{2}\right) - \frac{1}{2} + \frac{1}{2} \text{Heaviside}\left(t - \frac{3}{4}\right) - \frac{5}{16} - \frac{15}{8} t$$

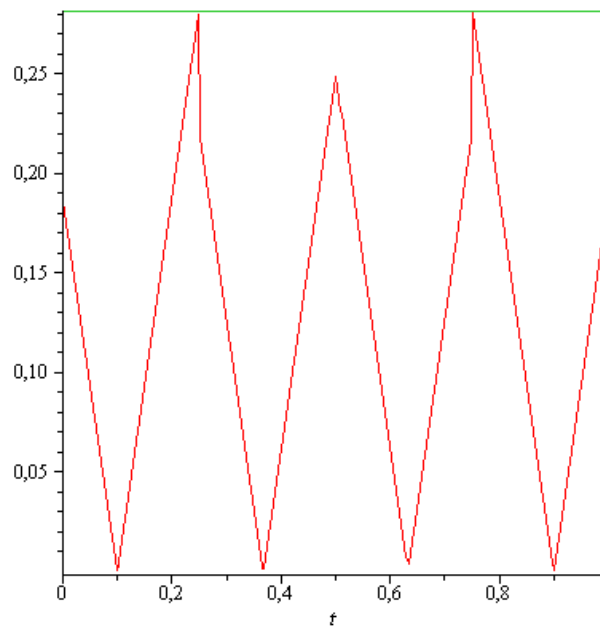
> `plot(DIF, t=0..1);`



> `y_max := maximize(abs(DIF), t=0..1);`

$$y_{max} := \frac{9}{32}$$

> `plot([abs(DIF), y_max], t=0..1);`



>

An den Stellen $t=0.25$ und $t=0.75$ sind die grössten Abweichungen.

>

> `evalf(g1);`

$$0.3125000000 + 1.875000000t$$



2. DFT

Die Funktion:

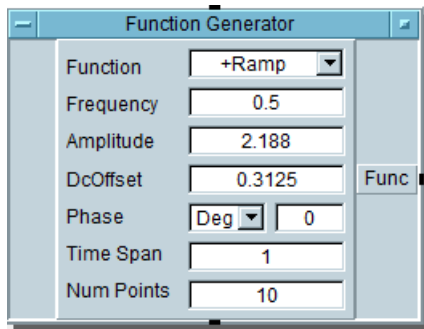
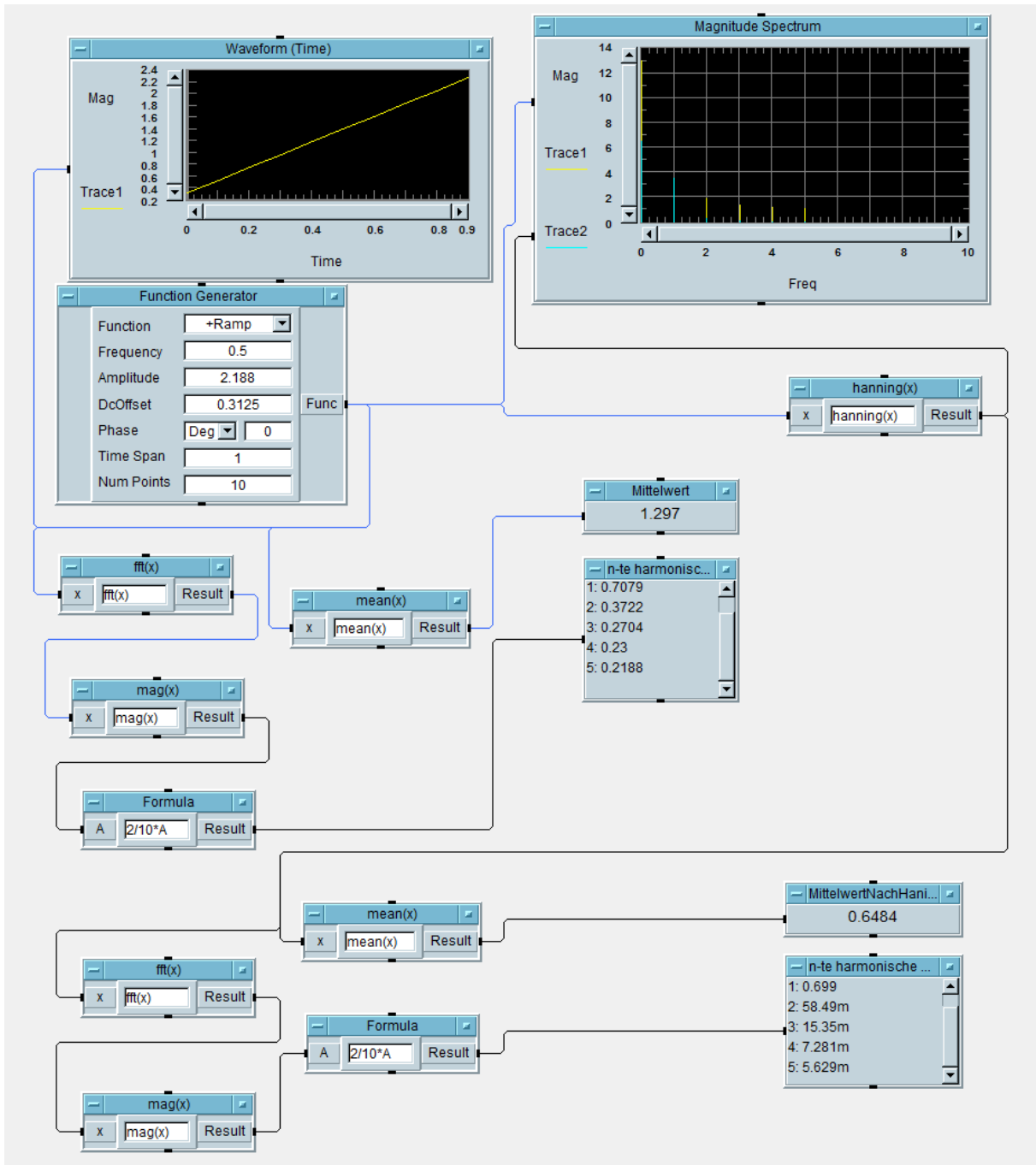


Abbildung 2: Funktion $h(t)$

Wird in HP VEE analysiert.

- a) Ermitteln Sie die Amplituden der 5 harmonischen Schwingungen mit der skalierten DFT.
- b) Ermitteln Sie die Amplituden der 5 harmonischen Schwingungen mit einem Hanning-Fenster





3. DGL - Übertragungsfunktion - Systemantwort

Erstellen Sie für die nachfolgende Schaltung die Übertragungsfunktion.

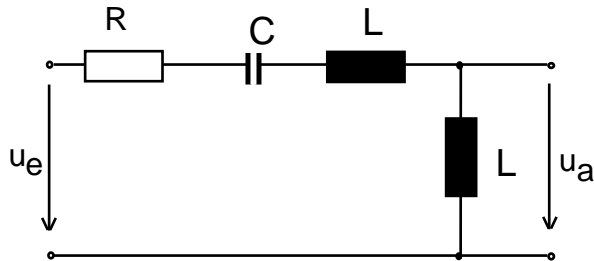


Abbildung 3 Schaltung mit R,C und L

- a) 3P Erstellen Sie die Übertragungsfunktion $G_1(s)$ – Darstellung: Die höchste Potenz im Nenner hat den Faktor 1.
- b) 1P Erstellen Sie die Übertragungsfunktion $G(s)$ für die normierten Werte $R=1, C=1, L=1$. Darstellung: Die höchste Potenz im Nenner hat den Faktor 1
- c) 6P Bestimmen Sie die Antwort $y(t)$ auf die Funktion $x(t)$ für die normierten Werte $R=1, C=1, L=1$.
- d) 2P Skizzieren Sie die Antwort.
- e) 2P Berechnen und skizzieren Sie die Übertragungsfunktion $g(t)$ aus $G(s)$.

Bestimmen Sie die Antwort $y(t)$ des Systems $G_2(s)$ auf die Eingangsfunktion: $x(t)$
Die Funktion entsteht durch eine Phasenanschnittsteuerung bei 60° .

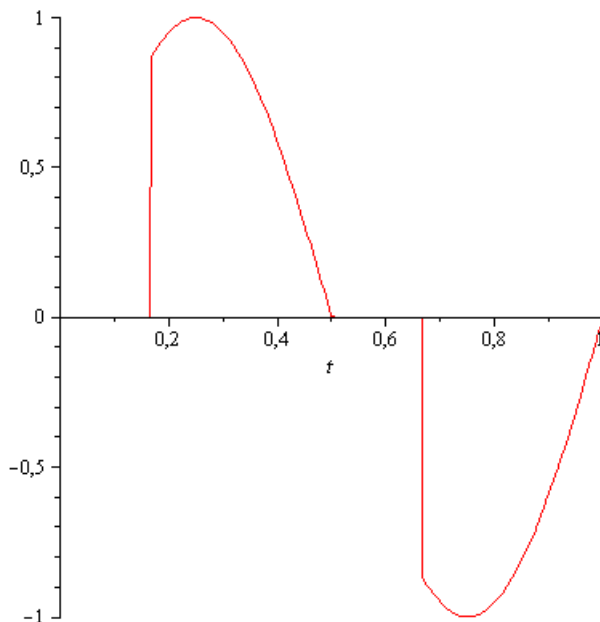


Abbildung Funktion $x(t)$

Hinweis: Schreiben Sie den Ansatz für Maple auf. Als Ergebnis genügt die Skizze. Das Ergebnis ist etwas umfangreicher. Skizzieren Sie Ausgangsfunktion $y(t)$.



Lösung a

$$\frac{u_a}{u_e} = \frac{sL}{R + \frac{1}{sC} + sl + sl}$$

$$\frac{u_a}{u_e} = \frac{\frac{1}{2}s}{s^2 + \frac{1}{2} \cdot \frac{R}{L}s + \frac{1}{2} \cdot \frac{1}{LC}}$$

Lösung b normiert:

$$\frac{u_a}{u_e} = \frac{\frac{1}{2}s}{s^2 + \frac{1}{2} \cdot s + \frac{1}{2}}$$

Lösung c

> restart;

> fl := sin(2·Pi·t);

$$fl := \sin(2 \pi t)$$

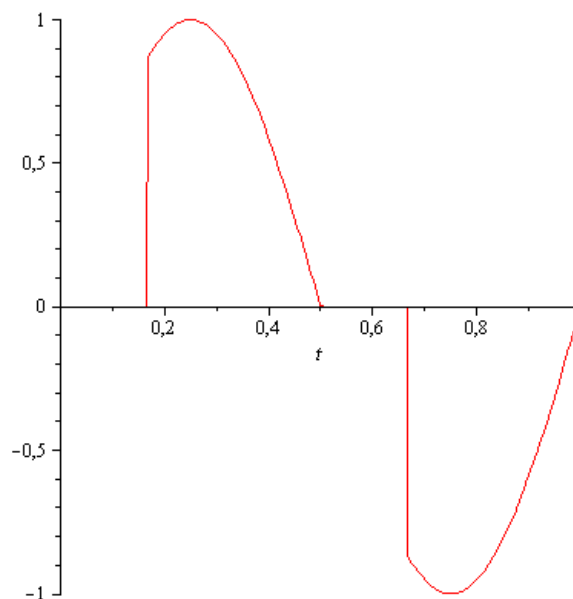
> f2 := Heaviside(t - 1/6) - Heaviside(t - 3/6) + Heaviside(t - 4/6) - Heaviside(t - 1);

$$f2 := \text{Heaviside}\left(t - \frac{1}{6}\right) - \text{Heaviside}\left(t - \frac{1}{2}\right) + \text{Heaviside}\left(t - \frac{2}{3}\right) - \text{Heaviside}(t - 1)$$

> x := fl · f2;

$$x := \sin(2 \pi t) \left(\text{Heaviside}\left(t - \frac{1}{6}\right) - \text{Heaviside}\left(t - \frac{1}{2}\right) + \text{Heaviside}\left(t - \frac{2}{3}\right) - \text{Heaviside}(t - 1) \right)$$

> plot(x, t=0..1);



> with(intrans);



[*addtable, fourier, fouriercos, fouriersin, hankel, hilbert, invfourier, invhilbert, invlaplace, invmellin, laplace, mellin, savetable*]

> $X := \text{laplace}(x, t, s);$

$X :=$

$$\frac{1}{2} \frac{-4 e^{-s} \pi + 4 e^{-\frac{1}{2} s} \pi + (2 \pi + \sqrt{3} s) \left(-e^{-\frac{2}{3} s} + e^{-\frac{1}{6} s} \right)}{s^2 + 4 \pi^2}$$

> $G := \frac{0.5 \cdot s^2}{s^2 + 0.5 \cdot s + 0.5};$

$$G := \frac{0.5 s^2}{s^2 + 0.5 s + 0.5}$$

> $Y := G \cdot X;$

$$Y := \frac{1}{(s^2 + 0.5 s + 0.5) (s^2 + 4 \pi^2)} \left(0.2500000000 s^2 \left(-4 e^{-s} \pi + 4 e^{-\frac{1}{2} s} \pi + (2 \pi + \sqrt{3} s) \left(-e^{-\frac{2}{3} s} + e^{-\frac{1}{6} s} \right) \right) \right)$$

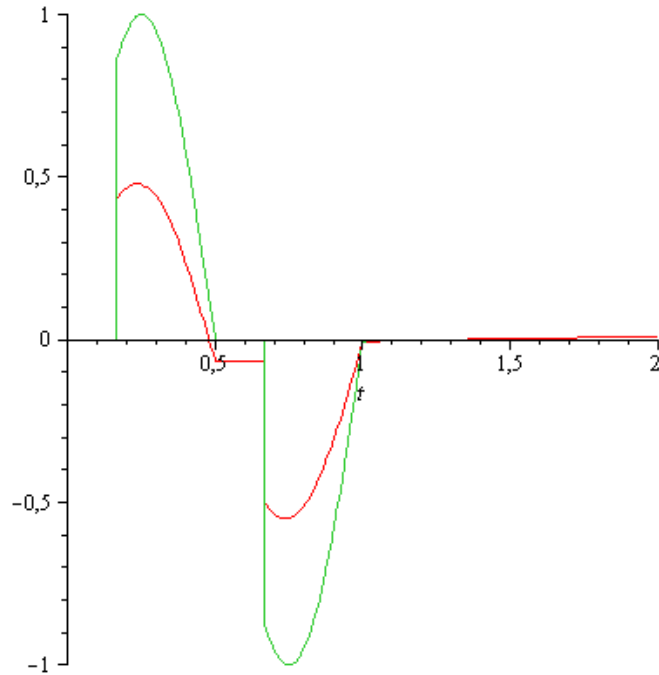
> $y := \text{invlaplace}(Y, s, t);$



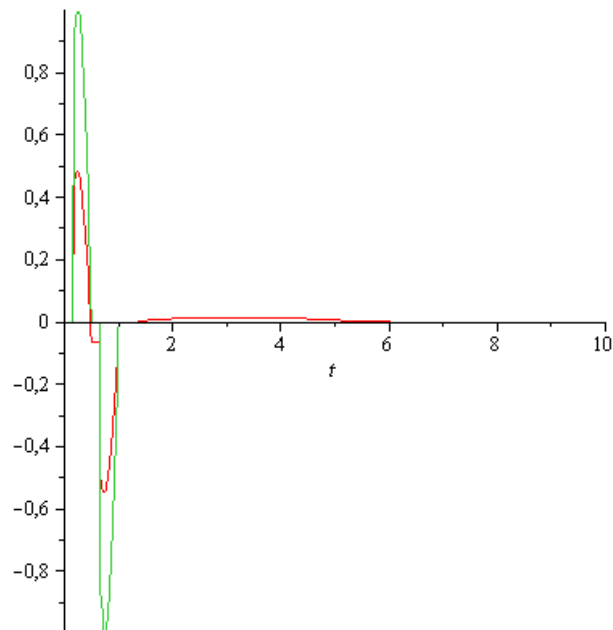
$$\begin{aligned} y := & 0.0002934886675(-138.1744617\cos(6.283185308t) \\ & + (138.1744617\cos(0.6614378278t - 0.6614378278) \\ & + 154.0293614\sin(0.6614378278t - 0.6614378278) \\ & e^{-0.2500000000t + 0.2500000000} - 1714.360346\sin(6.283185308t)) \\ & \text{Heaviside}(t - 1.) + 0.000005838771521(\\ & -78100.83994\cos(6.283185308t - 4.188790206) \\ & + (3939.229009\cos(0.6614378277t - 0.4409585518) \\ & + 2971.198473\sin(0.6614378277t - 0.4409585518) \\ & e^{-0.2500000000t + 0.1666666667} - 37071.67694\sin(6.283185308t \\ & - 4.188790206)) \text{Heaviside}(t - 0.6666666667) \\ & - 0.0002934886675(138.1744617\cos(6.283185308t) \\ & + (138.1744617\cos(0.6614378278t - 0.3307189139) \\ & + 154.0293614\sin(0.6614378278t - 0.3307189139) \\ & e^{-0.2500000000t + 0.1250000000} + 1714.360346\sin(6.283185308t)) \\ & \text{Heaviside}(t - 0.5000000000) \\ & + 0.000005838771521(78100.83994\cos(6.283185306t \\ & - 1.047197551) + (-3939.229009\cos(0.6614378280t \\ & - 0.1102396380) - 2971.198473\sin(0.6614378280t \\ & - 0.1102396380)) e^{-0.2500000000t + 0.04166666667} \\ & + 37071.67694\sin(6.283185306t - 1.047197551)) \text{Heaviside}(t \\ & - 0.1666666667) \end{aligned}$$



> `plot([y,x], t = 0..2);`



> `plot([y,x], t = 0..10);`



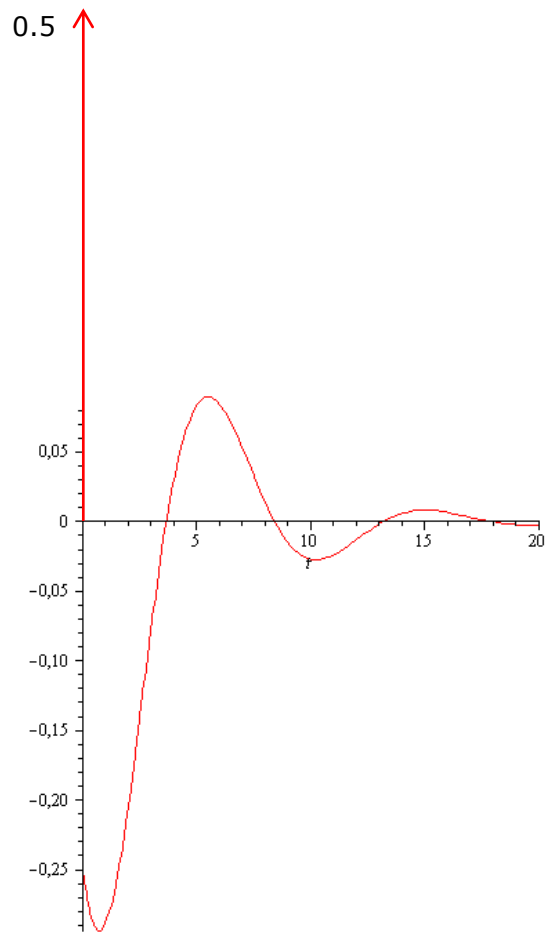


Lösung e

> $g := \text{invlaplace}(G, s, t);$

$$g := \frac{1}{2} \text{Dirac}(t) - \frac{1}{28} e^{-\frac{1}{4}t} \left(7 \cos\left(\frac{1}{4} \sqrt{7} t\right) + 3 \sqrt{7} \sin\left(\frac{1}{4} \sqrt{7} t\right) \right)$$

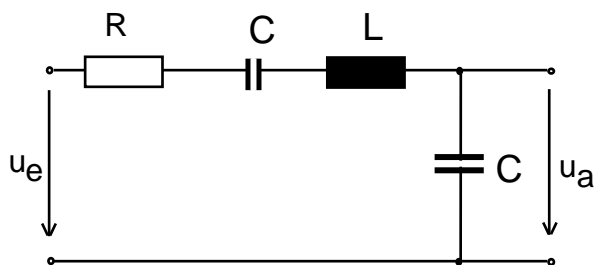
> $\text{plot}(g, t=0..20);$





4 Systemantwort, Übertragungsfunktion (8 Punkte)

Ersetzen Sie in Aufgabe 3 L durch C und ermitteln Sie die Antwort auf das Eingangssignal der Aufgabe 3.



- Schreiben Sie den Ansatz für die normierte Übertragungsfunktion $G(s)$
- Skizzieren Sie die Antwort auf das Eingangssignal $x(t)$
- Erklären Sie den Unterschied von Ausgangssignal der Aufgabe 3 und Aufgabe 4.

Lösung

normiert:

$$G(s) = \frac{1}{s^2 + s + 2}$$

> restart;

> f1 := sin(2·Pi·t);

$$f1 := \sin(2 \pi t)$$

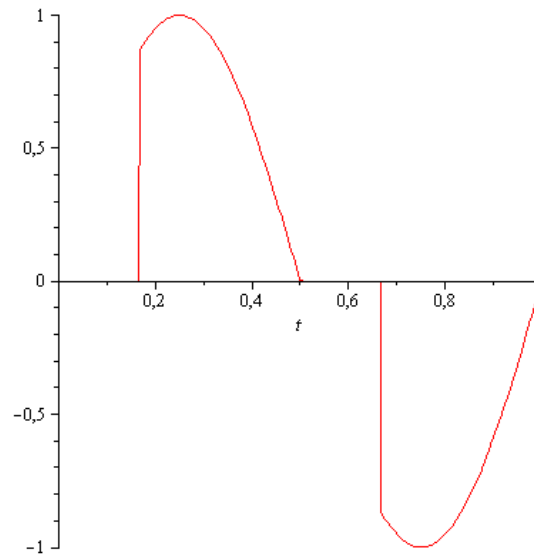
> f2 := Heaviside(t - 1/6) - Heaviside(t - 3/6) + Heaviside(t - 4/6) - Heaviside(t - 1);

$$f2 := \text{Heaviside}\left(t - \frac{1}{6}\right) - \text{Heaviside}\left(t - \frac{1}{2}\right) + \text{Heaviside}\left(t - \frac{2}{3}\right) - \text{Heaviside}(t - 1)$$

> x := f1 · f2;

$$x := \sin(2 \pi t) \left(\text{Heaviside}\left(t - \frac{1}{6}\right) - \text{Heaviside}\left(t - \frac{1}{2}\right) + \text{Heaviside}\left(t - \frac{2}{3}\right) - \text{Heaviside}(t - 1) \right)$$

> plot(x, t = 0..1);



> with(intrans);

[addtable, fourier, fouriercos, fouriersin, hankel, hilbert, invfourier, invhilbert, invlaplace, invmellin, laplace, mellin, savetable]

> X := laplace(x, t, s);

X :=

$$\frac{1}{2} \frac{-4 e^{-s} \pi + 4 e^{-\frac{1}{2} s} \pi + (2 \pi + \sqrt{3} s) \left(-e^{-\frac{2}{3} s} + e^{-\frac{1}{6} s} \right)}{s^2 + 4 \pi^2}$$

> G := $\frac{1}{s^2 + s + 2}$;

$$G := \frac{1}{s^2 + s + 2}$$

> Y := G · X;

Y :=

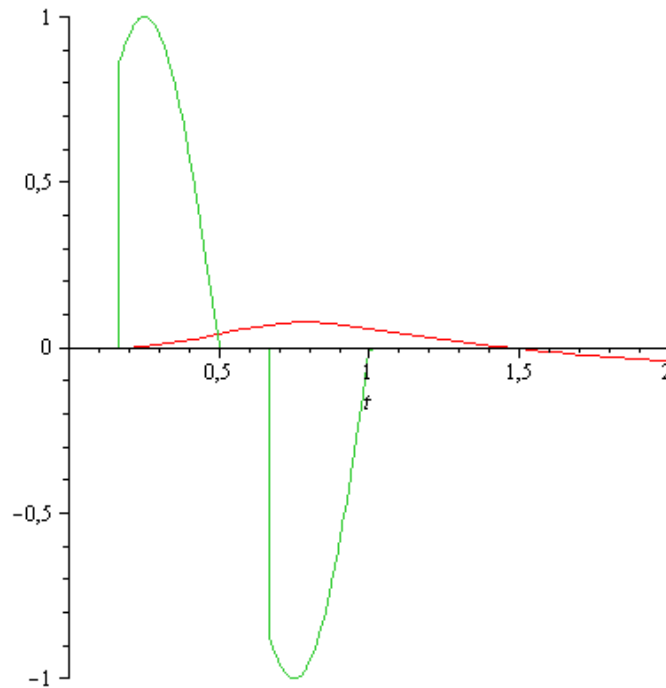
$$\frac{1}{2} \frac{-4 e^{-s} \pi + 4 e^{-\frac{1}{2} s} \pi + (2 \pi + \sqrt{3} s) \left(-e^{-\frac{2}{3} s} + e^{-\frac{1}{6} s} \right)}{(s^2 + s + 2) (s^2 + 4 \pi^2)}$$

> y := invlaplace(Y, s, t);

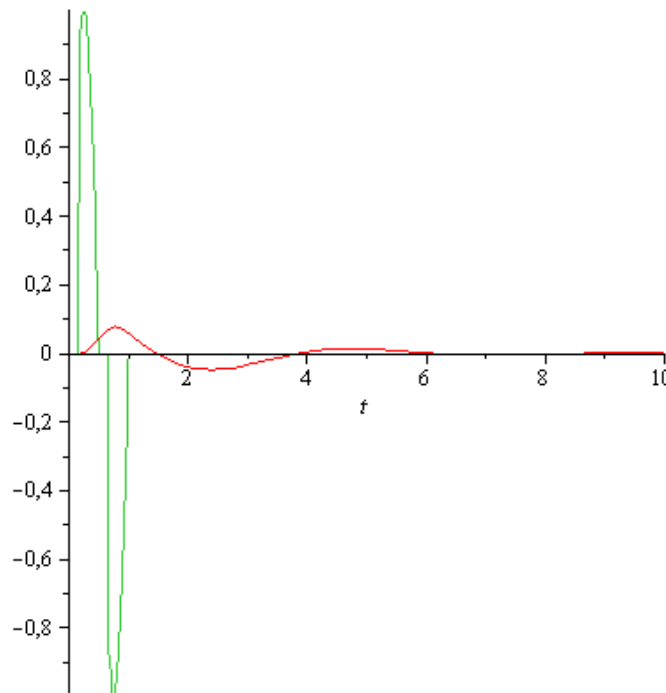


$$\begin{aligned} y := & \frac{1}{28} \frac{1}{-3\pi^2 + 4\pi^4 + 1} \left(2 \left(7\pi \cos(2\pi t) \right. \right. \\ & - \pi \left(7 \cos\left(\frac{1}{2} \sqrt{7} (t-1)\right) + \sqrt{7} (8\pi^2 - 3) \sin\left(\frac{1}{2} \sqrt{7} (t-1)\right) \right) e^{-\frac{1}{2}t + \frac{1}{2}} + 7 \sin(2\pi t) (2\pi^2 - 1) \Big) \text{Heaviside}(t-1) \\ & + \left(7 \cos\left(\frac{2}{3} \pi (3t-2)\right) (2\sqrt{3} \pi^2 + \pi - \sqrt{3}) \right. \\ & - \left(7 \cos\left(\frac{1}{6} \sqrt{7} (3t-2)\right) (2\sqrt{3} \pi^2 + \pi - \sqrt{3}) \right. \\ & + \left. \left. \sin\left(\frac{1}{6} \sqrt{7} (3t-2)\right) \sqrt{7} (-3\pi - \sqrt{3} + 8\pi^3 - 2\sqrt{3} \pi^2) \right) e^{-\frac{1}{2}t + \frac{1}{3}} + 7 \sin\left(\frac{2}{3} \pi (3t-2)\right) (-1 - \pi\sqrt{3} + 2\pi^2) \right) \text{Heaviside}\left(t - \frac{2}{3}\right) + 2 \left(7\pi \cos(2\pi t) \right. \\ & + \pi \left(7 \cos\left(\frac{1}{4} \sqrt{7} (2t-1)\right) + \sqrt{7} (8\pi^2 - 3) \sin\left(\frac{1}{4} \sqrt{7} (2t-1)\right) \right) e^{-\frac{1}{2}t + \frac{1}{4}} + 7 \sin(2\pi t) (2\pi^2 - 1) \Big) \text{Heaviside}\left(t - \frac{1}{2}\right) + \left(-7 \cos\left(\frac{1}{3} \pi (6t - 1)\right) (2\sqrt{3} \pi^2 + \pi - \sqrt{3}) + \left(7 \cos\left(\frac{1}{12} \sqrt{7} (6t - 1)\right) \sqrt{7} (-3\pi - \sqrt{3} + 8\pi^3 - 2\sqrt{3} \pi^2) \right) e^{-\frac{1}{2}t + \frac{1}{12}} - 7 \sin\left(\frac{1}{3} \pi (6t - 1)\right) (-1 - \pi\sqrt{3} + 2\pi^2) \right) \text{Heaviside}\left(t - \frac{1}{6}\right) \Big) \end{aligned}$$

> `plot([y,x], t=0..2);`



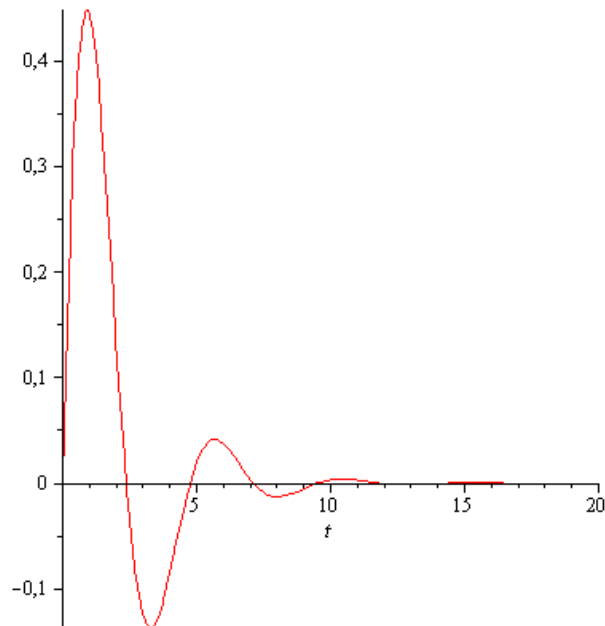
> `plot([y,x], t = 0..10);`



> `g := invlaplace (G, s, t);`

$$g := \frac{2}{7} \sqrt{7} e^{-\frac{1}{2}t} \sin\left(\frac{1}{2} \sqrt{7} t\right)$$

> `plot(g, t = 0..20);`



$g(t)$

> Der Kondensator glättet, die Spule differenziert

5 Fragen zu den Laborarbeiten

Nennen Sie mindestens vier im Sommersemester angebotene Laborarbeiten.

- E-Quickie_Streckenausbau,
- Alternative Radiusmessung Recherche,
- Alternative Radiusmessung theoretische Umsetzung ,
- Energy Harvesting Th,
- Green_Screen, Energy Harvesting System,
- HD-Kopter - GPS-Modus,
- E-Quickie_Homebutton Gruppe1,
- E-Quickie_Homebutton Gruppe2,
- Wlan-Statusanzeige,
- KUKA-Draisinenfertigung,
- Droid Dice G1,
- Droid Dice G2 E-Quickie_Streckenausbau;
- E-Quickie_Homebutton;
- KUKA-Draisinenfertigung
- Green_Screen
- 3D_Stereo,
- 3D_Stereo_ME,
- 3D_Stereo_E,
- 3D_Stereo_S